


نام و نام خانوادگی : به نام خدا آدینه هفتگی خانم نصیری

ریاضی

۱ - میزان مبلغ پس انداز شده ی نیمه ی اول سال حساب بانکی خانواده ی امینی در زیر آمده است . با توجه به این اطلاعات ، جدول و نمودار خط شکسته را رسم کنید .

فروردین ۳۰ هزار تومان - اردیبهشت ۳۵ هزار تومان - خرداد ۲۸ هزار تومان -
تیر ۲۵ هزار تومان - مرداد ۲۰ هزار تومان - شهریور ۱۰ هزار تومان -



۲ - اگر از هر کیسه یک مهره خارج کنیم ، در کدام یک احتمال بیرون آمدن مهره ی قرمز بیشتر است ؟ دلیل خود را بنویسید .



۳ مهره ی قرمز



۱ مهره ی قرمز



۷ مهره ی قرمز

۳ - هر یک از اندازه های داده شده را در جدول ارزش مکانی بنویسید و حاصل را در جدول ارزش مکانی به دست آورید .

الف) حاصل جمع $9/7$ لیتر با $5/9$ لیتر

ب) حاصل تفریق 24 سانتی متر از $21/7$ سانتی متر

۴ - فاصله ی شهر نطنز تا نیروگاه هسته ای ، $28/4$ کیلومتر است . گروهی که برای بازدید از این نیروگاه عازم شده بودند ، پس از طی مسافت $19/7$ کیلومتر ، کمی استراحت کردند . حالا چقدر از مسیر باقی مانده است ؟

۵ - اگر یک تاس را بیندازیم ، احتمال اینکه هر یک از اتفاق های زیر بیفتد چه قدر است ؟
با یک عبارت بیان کنید .

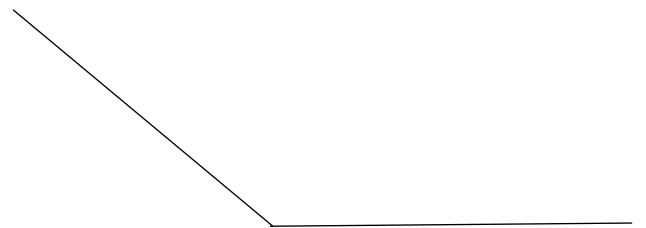

الف) عدد زوج بیاید . ($2, 4, 6$)

ب) عدد بیش تر از 7 بیاید .

ج) یکی از عددهای $1, 2, 3, 4, 5, 6$ بیاید .


د) عدد فرد بیاید . ($1, 3, 5$)

۶ - هر یک از زاویه های زیر را اندازه بگیرید .



۷ - با توجه به جدول ، نمودار ستونی مربوط به آن را کامل کنید .

| نوع کتاب | | | |
|----------|---------|------|------|
| مذهبی | داستانی | علمی | درسی |
| ۴ | ۸ | ۱۰ | ۶ |

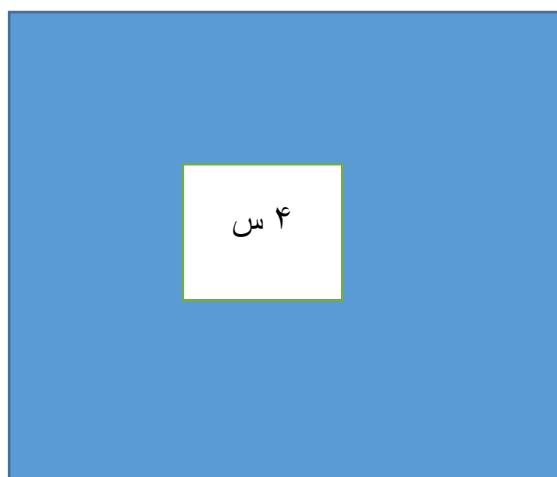


۸ - مساحت قسمت های رنگی را به دست آورید .

۱۰ س




۱۲ س



۹ - با استفاده از نقاله زاویه های ۱۱۵ و ۱۶۵ درجه را رسم کنید .

مطالعات اجتماعی

- ۱ - انقلاب اسلامی در چه تاریخی به پیروزی رسید؟
- ۲ - روزهایی را که به مناسبت های ملی تعطیل هستند ، نام ببرید .
- ۳ - به چه دلیل عید نیمه ی شعبان را جشن می گیریم؟
- ۴ - نام دو مراسم را بنویسید که در آن پرچم جمهوری اسلامی ایران برافراشته می شود؟
- ۵ - قوانین مهم کشور ما در چه کتابی نوشته شده است؟
- ۶ - در حاشیه ی پرچم ایران ، کلمه ی نوشته شده است .
- ۷ - زبان و خط رسمی کشور ما چیست؟
- ۸ - به همه ی مردم ایران که در کشور ایران زندگی می کنند ، گفته می شود .



پیروز باشید