

نام و نام خانوادگی : به نام خدا آدینه ۲۵ خانم نصیری پایه ی چهارم ریاضی

۱ - برای عبارت روبرو یک سوال طرح کنید .

$$2/8 - 0/5 =$$

۲ - حاصل تفریق های زیر را بنویسید .

$$1/7 - 0/3 =$$

$$0/8 - 0/2 =$$

$$2/6 - 0/4 =$$


$$3/5 - 0/5 =$$

۳ - اگر فاصله ی بین ۷ و ۸ را ده قسمت کنیم چند عدد دیگر بین این دو عدد می توانیم پیدا کنیم ؟ روی محور زیر سه عدد را نشان دهید .



۴ - اعداد اعشاری زیر را روی محور نشان دهید .

$0/7$ ، $3/4$ ، $1/5$ ، $2/3$



۵ - در جاهای خالی عدد مناسب بنویسید .

الف ($0/6$ یعنی تا $0/1$)

ب ($0/5$ یعنی ۵ تا)

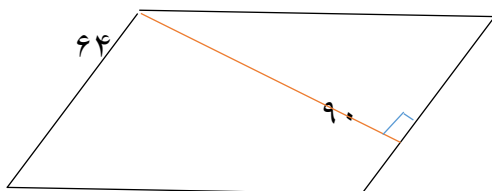
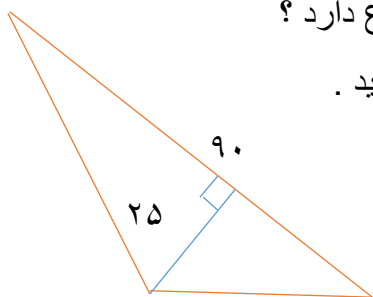
ج ($2/3$ یعنی واحد کامل و ۳ تا)

د ($2/6$ یعنی ۲۶ تا)

۶ - بین دو خط موازی زیر یک مربع ، یک مستطیل ، یک متوازی الاضلاع و یک دوزنقه بکشید و آن ها را رنگ بزنید .


۷ - متوازی الاضلاع در مجموع چند ارتفاع دارد ؟

۸ - مساحت شکل های زیر را به دست آورید .



۹ - یک مثلث چند ارتفاع دارد ؟ چرا ؟

ارتفاع های مثلث مقابل را رسم کنید .



مطالعات اجتماعی

۱ - به محل زندگی هر موجود زنده چه می گویند ؟

۲ - هر شهر را به ناحیه ی آب و هوایی که در آن قرار دارد وصل کنید .

بندرعباس شهرکرد ساری بوشهر یزد رشت قم ایلام

ناحیه ی معتدل خزری ناحیه ی کوهستانی ناحیه ی گرم و خشک ناحیه ی گرم و خشک

۳ - شن و ماسه و گل و لایی که رودها با خود همراه دارند چه نامیده می شود ؟

۴ - در ناحیه ی آب و هوایی گرم و خشک چه گیاهانی بیش تر می رویند ؟

۵ - کدام یک از حکومت ها در جنگ با مسلمانان شکست خوردند ؟

۶ - با توجه به ناحیه ی خزری پاسخ دهید .

نوع آب و هوا : نام دو درخت :

نام دو حیوان : خصوصیات آب و هوای آن :

