

پیک آدینه ۲۵

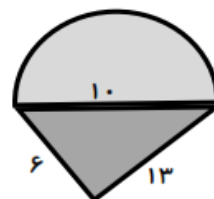
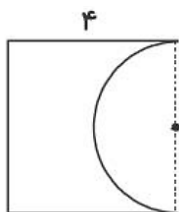
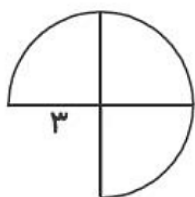
پایه پنجم

علی آبادی

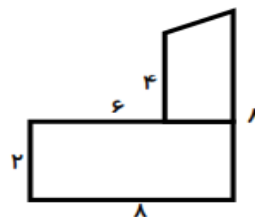
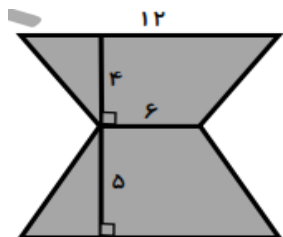
نام و نام خانوادگی:

تاریخ: ۹۷/۱/۲۴

۱- محیط شکل های زیر را حساب کنید.



۲- مساحت شکل های زیر را حساب کنید.



۳- مساحت یک لوزی ۱۶۰ سانتی متر مربع است. اگر قطر کوچک آن ۱۶ سانتی متر باشد. قطر بزرگ آن را حساب کنید.

۴- دنده ای دور زمین دایره ای شکلی به شعاع ۸ متر را سه دور زده است. این دنده چند متر دویده است؟

۵- ضرب کنید.

$$۳۵۴ \times ۰/۳ =$$

$$۳۷/۱۲ \times ۱۰۰ =$$

$$۰/۰۵ \times ۲/۰۱ =$$

$$۰/۴ \times ۰/۷ =$$

۶- گسترده کنید.

$$۱۶/۴۳۸ =$$

$$۴/۵۰۳ =$$

۷- کسر مقابل را ساده کنید.

$$\frac{۱۵ \times ۱۵۰ \times ۲۸}{۱۴ \times ۱۰ \times ۳۰} =$$

۸- عملیات زیر را انجام دهید و به ساده ترین صورت بنویسید.

$$۲\frac{۱}{۲} + ۳\frac{۱}{۴} =$$

$$۵ - ۲\frac{۲}{۸} =$$

$$۴\frac{۱}{۸} \div ۳\frac{۱}{۵} =$$

$$\frac{۴}{۷} \times \frac{۵۶}{۱۶} =$$

۹- حجم شکل های زیر را حساب کنید.

