

نام و نام خانوادگی :

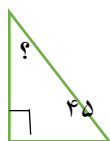
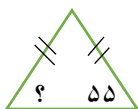
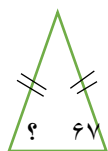
به نام خدا

آدینه هفتگی ۲۱

خانم نصیری

ریاضی

۱ - در مثلث های زیر , زاویه های مشخص شده را اندازه بگیرید .



۲ - هریک از عددهای زیر را با رقم بنویسید .

دوازده و هشت دهم : دو و نه دهم :

صد و بیست و شش و پنج دهم : یک و سه دهم :

۳ - با توجه به واحد , عدد مخلوط و کسر مربوط به شکل را نشان دهید .



$$1 \frac{3}{10}$$

۴ - اندازه های داده شده را به صورت عدد مخلوط و اعشار بنویسید .

۹ میلی متر بعد از ۲ سانتی متر

۷ میلی متر بعد از ۵ سانتی متر

۴ میلی متر قبل از ۱ سانتی متر

۵ - جاهای خالی را کامل کنید .

۳/۶ سانتی متر یعنی سانتی متر و ۶ میلی متر یا میلی متر یعنی تا ۰/۱ سانتی متر

۱۰/۹ سانتی متر یعنی سانتی متر و میلی متر یا میلی متر یعنی تا ۰/۱ سانتی متر

۱/۲ یعنی تا ۰/۱ ۵/۷ یعنی تا

۸/۴ یعنی تا ۰/۱ ۴۰/۳ تا

۶ - در یک چادر ۸ نفر می خوابند . ۶۷ نفر به چند چادر نیاز دارند ؟

۷ - دو عدد بنویسید که بر ۵ بخش پذیر باشد .

۸ - حاصل تقسیم های زیر را به دست آورید .

$$392 \overline{) 20}$$

$$305 \overline{) 6}$$

$$516 \overline{) 2}$$

$$846 \overline{) 4}$$

۹ - حاصل تفریق های زیر را به دست آورید .

$$\frac{2}{5} - \frac{3}{10} =$$

$$\frac{8}{10} - \frac{3}{5} =$$

اجتماعی

الف (در جاهای خالی کلمه های مناسب بنویسید .

۱ - به زمین های صاف و هموار می گویند .

۲ - به پستی و بلندی های زمین می گویند .

۳ - پارت ها گروهی دیگر از بودند .

۴ - جانشینان اسکندر در ایران حکومت را تشکیل دادند .

۵ - در دوره ی ساسانیان بیش تر مردم ایران پیرو دین بودند .

ب (به سوال های زیر پاسخ کوتاه دهید .

۱ - اقوام آریایی از کجا وارد سرزمین ایران شدند ؟

۲ - فرمانده شجاع ایرانی در زمان حمله ی اسکندر به ایران چه کسی بود ؟

۳ - پارت ها چه حکومتی را تاسیس کردند ؟

ج (به سوال های زیر پاسخ کامل بدهید .

۱ - آبرفت را تعریف کنید .

۲ - جلگه را تعریف کنید .



پیروز باشی