

### پسرم به سوالات با دقت کامل پاسخ بده.

(۱) بزرگترین و کوچکترین عدد چهار رقمی را که با ارقام ۳؛ ۶؛ ۷ و صفر می توان نوشت را با کمک جدول ارزش مکانی بسازید و سپس به رقم و حروف بنویسید.

(۲) در جای خالی عدد مناسب قرار دهید.

۸...	۷۵	۷۳۴	۶....۰	۸۶۹	۳۹....
$\frac{- ۵۳}{... ۶}$	$\frac{- ... ۶}{۵۹}$	$\frac{- ... ۴۵}{۳.....}$	$\frac{- .....۴.....}{۴۰۱}$	$\frac{+ ۲.....۸}{.....۲.....}$	$\frac{+ ۳۲۴}{.....۱}$

(۳) در کتاب خانه ی دبستانی ۴۵۰ جلد کتاب موجود است. دانش آموزان در هفته ی کتاب ۱۹۵ جلد کتاب دیگر به کتاب خانه اهدا کردند. کتاب های کتاب خانه چند جلد شده؟

(۴) برای عبارت زیر مساله بنویسید و حل کنید.

$$۷۲۸ + ۳۹ = \dots\dots$$

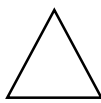
(۵) قطر هر شکل را رسم کنید و جاهای خالی را پر کنید.



قطر.....

ضلع.....


زاویه.....



قطر.....

ضلع.....


زاویه.....



قطر.....

ضلع.....

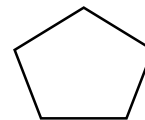
زاویه.....



قطر.....

ضلع.....

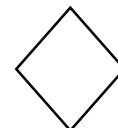
زاویه.....



قطر.....

ضلع.....

زاویه.....



قطر.....

ضلع.....

زاویه.....

(۶) تساوی ضرب را روی هر محور نشان بده.

$$۵ \times ۹ = ۹ \times ۵$$



$$۴ \times ۶ = ۶ \times ۴$$



$$۳ \times ۷ = ۷ \times ۳$$



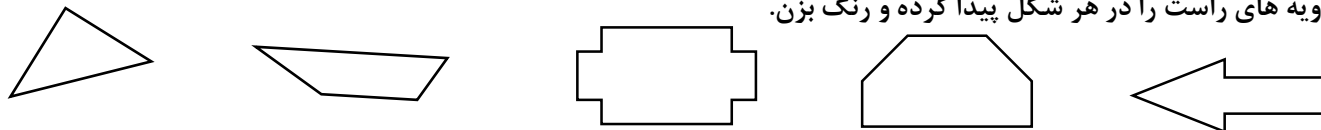
(۷) شکلی را رسم کنید که ۳ دسته هشت تایی را نشان بدهد.

(۸) امیرعلی روزی ۹ صفحه از کتاب داستان خود را می خواند. او در یک هفته چند صفحه می خواند؟

۹) در جاهای خالی عدد مناسب بنویس.

$۳ \times ۴ =$	$۵ \times ۸ =$	$۹ \times ۴ =$	$۶ \times ۷ =$	$۴ \times ۴ =$	$۸ \times ۹ =$
$۲ \times ۷ =$	$۶ \times ۴ =$	$۸ \times ۳ =$	$۵ \times ۶ =$	$۷ \times ۲ =$	$۶ \times ۶ =$
$۵ \times ۹ =$	$۱۰ \times ۴ =$	$۹ \times ۶ =$	$۸ \times ۹ =$	$۷ \times ۹ =$	$۸ \times ۲ =$

۱۰) زاویه های راست را در هر شکل پیدا کرده و رنگ بزن.



۱۱) جاهای خالی را با عبارت مناسب پر کنید.

الف) هر دایره ..... قطر دارد.  
ب) وسیله رسم دایره ..... است.  
ج) اندازه شعاع هر دایره ..... قطر آن است.  
و) ..... وسیله پیدا کردن زاویه ی راست است.

۱۲) برای عبارت های زیر شکل رسم کنید و جواب را بنویس.

$(۳ \times ۷) + (۴ \times ۷) = \dots\dots\dots$        $(۶ \times ۴) + (۲ \times ۴) = \dots\dots\dots$

۱۳) مساله زیر را کامل کرده و سپس حل کن.

معلم ورزش مدرسه ای ۷ گروه ۴ نفره برای بازی.....

۱۴) به یک عدد ۶۷۰ اضافه کردیم. حاصل برابر ۱۰۰۰ شد. آن عدد را پیدا کن.

۱۵) محمد از ۷۵۰۰ تومان پولی که داشت مقداری را در جشن نیکوکاری کمک کرد. او حالا ۲۵۰۰ تومان دارد. محمد چه قدر کمک کرده است؟

۱۶) دایره ای رسم کنید که قطر آن ۶ سانتی متر باشد. شعاع این دایره ..... است.

### فارسی

۱) ده کلمه پنج حرفی پیدا کن و به ترتیب حروف الفبا بنویس.

.....  
.....

۲) با دو کلمه زیر دو جمله بنویس که زمان آینده را نشان دهد.

پیراهن .....

هنرمند .....

۳) هم خانواده ی کلمات زیر را بنویس.

شاکر ..... ضربه ..... حق ..... شاکي ..... شاعر .....

۴) با استفاده از کلمه های زیر یک جمله سوالی بساز و به آن پاسخ مناسب بده.

لذت ..... ؟

مراقب ..... ؟

۵) در جای خالی کلمه ای بنویس که معنای جمله با آن کامل شود.

شد - است - می خواند - دارد -

الف) پرنده آوازی دلنشین .....

ب) طبیعت زیبای ایران در هر فصلی تماشایی .....

ج) پدر بزرگ مشغول تماسای عکس های او .....

۶) کلمه های هم معنی را به هم وصل کن.

صدای خوش سرود

زعفران

ظرف یا اشیای گلی؛ چیزی که از گل رس ساخته شده

نغمه

زیبا و قشنگ

سفالی

گیاهی خوشبو و خوش رنگ که ارزش غذایی و دارویی دارد

چشم نواز

۷) به کمک نشانه های زیر کلمه ی جدیدی بساز و با هر کلمه یک جمله بنویس.

ه - غ - م - ن ←

ن - ه - ک - ا - ش - ک ←

۸) جمله های زیر را بخوان و از حالت گفتاری به حالت نوشتاری تبدیل کن.

تموم حیوونا اطراف لونه ی خودشون روتیمیز می کنن. ....

مورچه ریزه خوندن کتاب رو خیلی دوست داشت. ....

۹) کلمه های زیر را بخوان و مانند نمونه ترکیب جدید درست کن.

زیبا : گذشته؛ دانا؛ تمیز؛ کوه

هفته ؛ نوشته ؛ دامنه؛ انسان؛ خانه

نوشته ی زیبا

.....

.....

.....

.....

### سوالات تستی

۱) برای کدام شکل می توان ضرب نوشت؟

الف)  (الف)

ج)  (ج)

۲) عدد اول هر ضرب چه چیز را نشان می دهد؟

الف) علامت ضرب

ب) تعداد اشیای دسته

ج) تعداد دسته

د) حاصل ضرب

۳) جمع رقم های یک عدد دو رقمی ۸ و حاصل ضرب آن ها ۱۶ می باشد. آن عدد کدام است؟

الف) ۶۲

ب) ۵۳

ج) ۴۴

د) ۱۷

۴) از سه ردیف چهار تایی گردو ۲ تایی آن را خوردیم. چند گردو داریم؟

الف) ۱۲

ب) ۱۴

ج) ۱۰

د) ۱۳

۵) ۳ هفته و هفت روز چند روز می شود؟

الف) ۴

ب) ۳

ج) ۲۱

د) ۲۸

یک املا از کلماتی که حروف ( غ - ق - ص - ض - ح - ط - ظ ) دارند بنویس.

.....

.....

.....

.....

.....

.....

.....

.....

.....

موفق باشید